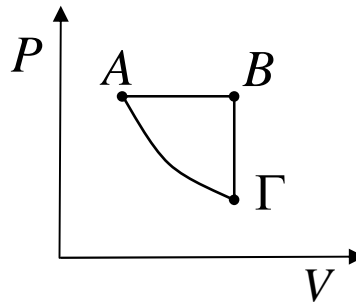


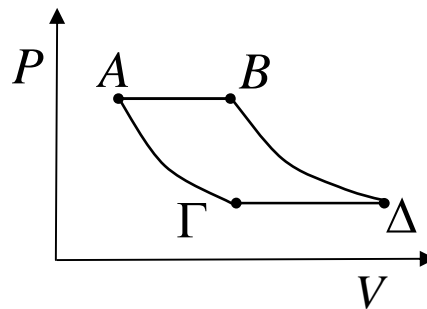
Τρεις ερωτήσεις θερμοδυναμικής.

1. Σε ποια μεταβολή προσφέρεται περισσότερη θερμότητα.



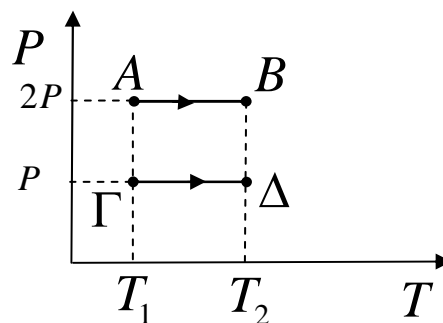
Αν η AB είναι ισοβαρής, η BΓ ισόχωρη και η ΓΑ αδιαβατική να συγκρίνετε τα ποσά θερμότητας Q_{AB} και $Q_{BΓ}$.

2. Σε ποια μεταβολή έχω μεγαλύτερη μεταβολή θερμοκρασίας.



Αν οι AB και ΓΔ είναι ισοβαρείς και οι AΓ και BΔ αδιαβατικές να συγκρίνετε τις μεταβολές θερμοκρασίας κατά τις AB και ΓΔ.

3. Σε ποια μεταβολή έχω μεγαλύτερη μεταβολή όγκου.



Υλικό Φυσικής - Χημείας.

Επειδή το να μοιράζεσαι πράγματα, είναι καλό για όλους....

Επιμέλεια:

Γιάννης Κοριακόπουλος